

26.04.24

Занятие №9



для будущих первоклассников

**Дорогие родители и
будущие
первоклассники!**

**Приглашаем вас на занятие для будущих
первоклассников в подготовительную школу «Веснушки».
Тема занятия «Математические ступеньки».**

**Уважаемые взрослые, прошу вас помочь своим детям
познакомиться с информацией на слайдах, выполнить
несложные игровые задания.**

Желаю успеха!

- Листать слайды – кнопка 
- Проверить ответ– кнопка 
- Скрыть текст задания – щелкнуть по нему левой кнопкой мышки.






При клике на овощ, он пульсирует.

- Назовите овощ который находится между капустой и огурцом.

- Слово между обозначает, что предмет находится в промежутке среди других предметов.



-Что находится между чесноком и капустой?



Кликни на
картофель и он
будет
пульсировать.



- Между чем находится мячик?



Кликни на машинку
и куклу и они будут
пульсировать.



-Что находится между бананами и яблоком?



Кликни на грушу и она за пульсирует.



-Кто стоит между бабушкой и дедушкой?





- Кто стоит перед бабушкой? А за бабушкой?
- Кто стоит перед внучкой, а за внучкой?
- Кто стоит между собакой и бабушкой? И т.д.

-Кто сидит между слоненком и тигрёнком?



- Кто находится сзади от лисы?



- Кто находится сзади от лисы?



**-Кто между дедкой и внучкой?
-Кто между мышкой и бабкой?**



- Кто идет перед пахарем?





Весёлый счёт

от 1 до 10



Прямой счёт

От 1 до 10



Обратный счёт От 10 до 1



Давай поиграем!



КТО В
ДОМИКЕ
ЖИВЁТ?

Кто в домике живёт?

The image shows a matching game interface. In the center is a large white square with a green cartoon turtle. A speaker icon is overlaid on the turtle's shell. Surrounding this central square are four houses, each with a number in a red font inside a white square and an animal icon in a colored triangle above it. The houses are arranged in a 2x2 grid:

- Top-left: House with number 0 and a green triangle.
- Top-right: House with number 4 and a grey mouse icon.
- Bottom-left: House with number 5 and a pink pig icon.
- Bottom-right: House with number 9 and a yellow chick icon.

Кто живет в домике с цифрой 2 

Кто в домике живёт?



Кто живет в домике с цифрой 4 ? 

Кто в домике живёт?



Кто живет в домике с цифрой 6 ? 

Кто в домике живёт?




Кто живет в домике с цифрой ?

Весёлые задачи



Два мышонка грызли корку,
Два – сырок тащили в норку.

Сколько их у нас в квартире?
ДВА плюс **ДВА** равно **ЧЕТЫРЕ**



Вырос гриб в тени осин,
Он сначала был **ОДИН**.
Тут второй грибок пробился,
Рядом с первым очутился.
Стала их считать сова:
Получилось ровно **ДВА**



$$1 + 1 = 2$$



Четыре лягушонка
Устроились на кочке.
А рядом – их сестрёнка,
Сестрёнка – на листочке.
Они сидят на месте,
легко считать их вместе.


$$4 + 1 = 5$$



Белка шишки собирала,
Собирала и считала.
Забиралась на сосну,
Прибавляла к ТРЁМ – ОДНУ.
Было шишек ТРИ сначала,
А теперь ЧЕТЫРЕ стало



$$3 + 1 = 4$$





ТРИ синицы на кормушке.
ДВЕ синицы на кадуске.
Мы умеем прибавлять:
Всех синичек будет **ПЯТЬ**

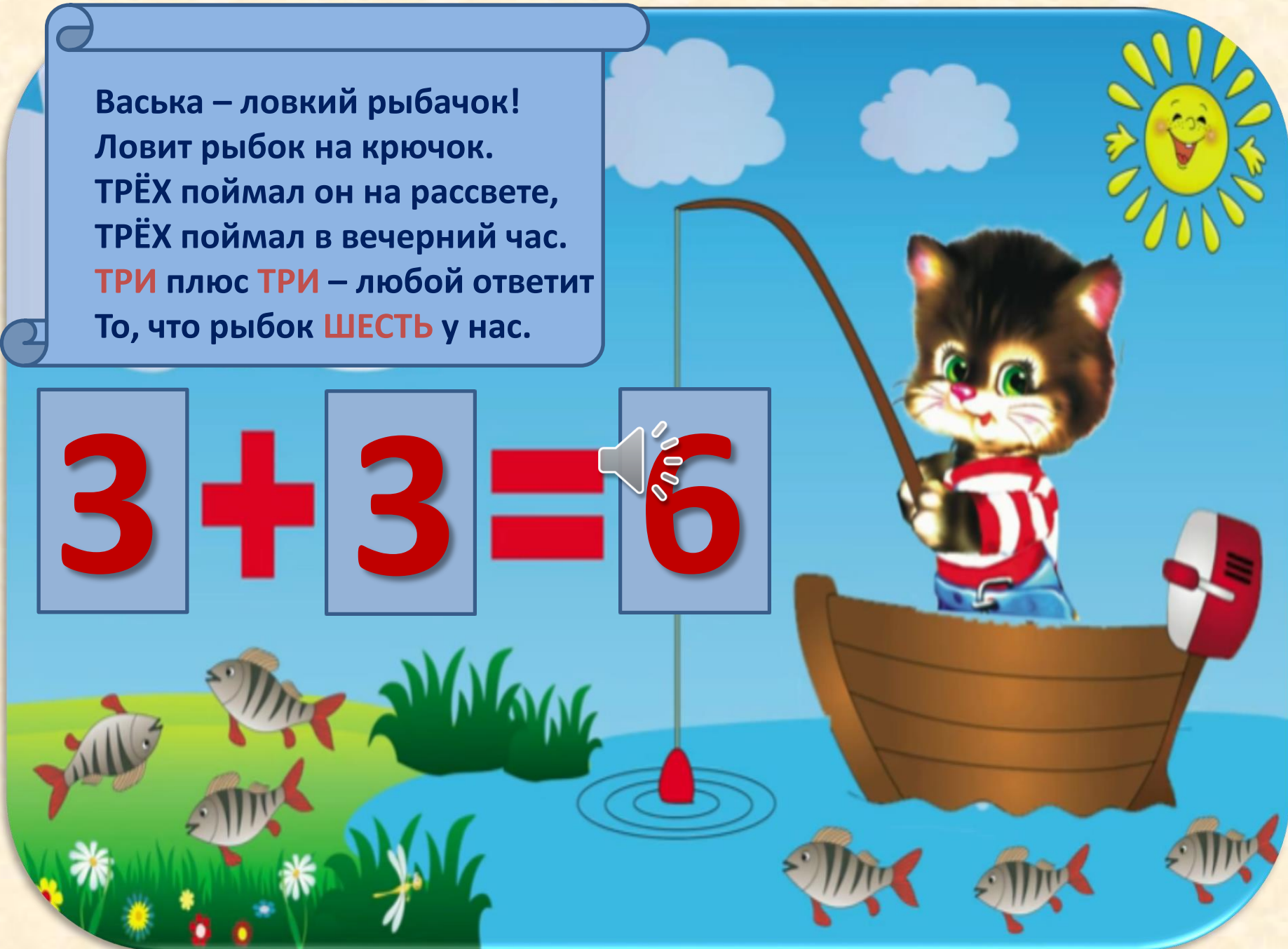


$$3 + 2 = 5$$



Васька – ловкий рыбачок!
Ловит рыбок на крючок.
ТРЕХ поймал он на рассвете,
ТРЕХ поймал в вечерний час.
ТРИ плюс ТРИ – любой ответит
То, что рыбок ШЕСТЬ у нас.

$$3 + 3 = 6$$



Взял иголку ёжик в лапки,
Стал он шить зверятам шапки.
ПЯТЬ – для маленьких зайчат,
А **ЧЕТЫРЕ** – для волчат.
Ёжик шапки шьёт толково,
Сколько шапок у портного?

$$5 + 4 = 9$$



Рано утром у реки
Распустились васильки:
ПЯТЬ – на левом берегу,
ПЯТЬ на правом берегу.

Я цветочки-василёчки
Сосчитать легко смогу,
Потому что **ПЯТЬ** да **ПЯТЬ**
Будет **ДЕСЯТЬ**...
Как не знать?



$$5 + 5 = 10$$

